



1) Indiquer le nom de l'opération en gris foncé sur la pièce ci contre :

.....




2) Indiquer le nom de l'opération en gris foncé sur la pièce ci contre :

.....




3) Indiquer le nom de l'opération en gris foncé sur la pièce ci contre :

.....




4) Indiquer le nom de l'opération en gris foncé sur la pièce ci contre :

.....



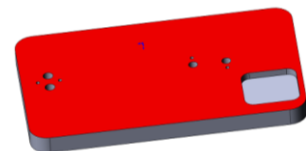
5) Indiquer le nom de l'opération en gris foncé sur la pièce ci contre :

.....




6) Indiquer le nom de l'opération en gris foncé sur la pièce ci contre :

.....



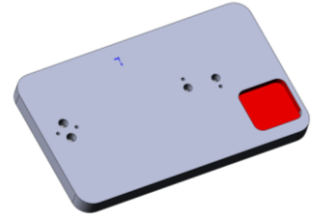
7) Indiquer le nom de l'opération en gris foncé sur la pièce ci contre :

.....



8) Indiquer le nom de l'opération en gris foncé sur la pièce ci contre :

.....




9) Indiquer le nom de l'opération en gris foncé sur la pièce ci contre :

.....




10) Indiquer le nom de l'opération en gris foncé sur la pièce ci contre :

.....




11) Indiquer le nom de l'opération en gris foncé sur la pièce ci contre :

.....



12) Indiquer le nom de l'opération en gris foncé sur la pièce ci contre :

.....





LP Don Bosco

Equipe de Bac Pro  
Technicien d'Usinage

Page 3 sur 3

# TD N°4

## Opérations d'usinage

Nom : .....


Prénom : .....

Classe : .....TU

Date : ..... / ..... / 20.....

13) Indiquer le nom de l'opération en gris foncé sur la pièce ci contre :

.....



14) Indiquer le nom de l'opération en gris foncé sur la pièce ci contre :

.....



15) Indiquer le nom de l'opération en gris foncé sur la pièce ci contre :

.....

