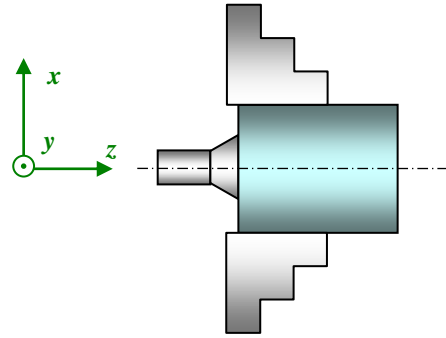
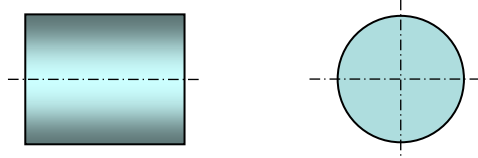
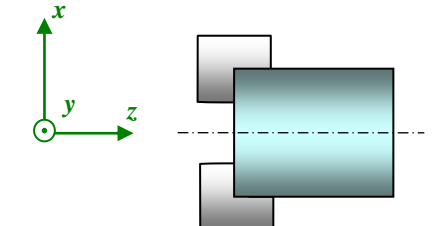
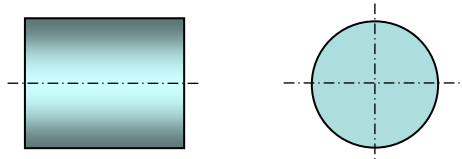


### Travail demandé :

Complétez la mise en position géométrique sur toutes les figures et compléter les tableaux correspondants.

MISE EN POSITION				REPERAGE ISOSTATIQUE			
							
		TRANSLATION		ROTATION			
		X	Y	Z	X	Y	Z
Mouvements arrêtés							
							
		TRANSLATION		ROTATION			
		X	Y	Z	X	Y	Z
Mouvements arrêtés							



LP Don Bosco

Equipe de Bac Pro  
Technicien d'Usinage

Page 2 sur 3

# TD N°2

## Mise en position géométrique

CI 5 :  
L'exploitation de  
documents techniques  
de fabrication...

MISE EN POSITION				REPERAGE ISOSTATIQUE			
		TRANSLATION		ROTATION			
		X	Y	Z	X	Y	Z
Mouvements arrêtés							
		TRANSLATION		ROTATION			
		X	Y	Z	X	Y	Z
Mouvements arrêtés							



LP Don Bosco

MISE EN POSITION				REPERAGE ISOSTATIQUE		
	TRANSLATION			ROTATION		
	X	Y	Z	X	Y	Z
Mouvements arrêtés						
	TRANSLATION			ROTATION		
	X	Y	Z	X	Y	Z
Mouvements arrêtés						